

Zadania – test jednokrotnego wyboru

1. Dowódcą I Brygady Legionów był:

- a) Józef Piłsudski, b) Stanisław Szeptycki, c) Józef Haller, d) Władysław Sikorski

2. Dopisz literę A do wydarzenia chronologicznie pierwszego, a literę B do ostatniego.

1.	Powstanie styczniowe	
2.	Wiosna Ludów	
3.	Powstanie listopadowe	
4.	Kongres wiedeński	

Zadania – pytanie do tekstu

3. Przeczytaj fragment tekstu autorstwa Józefa Piłsudskiego poświęcony powstaniu styczniowemu i na jego podstawie wykonaj polecenie.

Siła spisku 1830 r. była minimalną. Nikt ze spiskowych nie wyszedł na górę, nikt z nich nie został wodzem dalszej akcji. Cała starszyna wypowiedziała się przeciwko nim, wszyscy się od nich chowali, jak od zarazy. Jakżeż inną jest siła spisku w 1863 r. Rozkaz, przez jego władze wydany, jest bezapelacyjnie spełniony, tysiące ludzi zbiera się tylko dlatego, że nakazano stanąć pod sztandarem. Spisek 1863 r. przewyższający wielokrotnie swą siłą i potęgą spisek 1830 r., szukał sił szlacheckich, wrzących w narodzie, chciał znaleźć oparcie o wewnętrzną całość moralną, o wytrzymałość całej masy ludzi.

- a) Jaką różnicę dostrzegał Józef Piłsudski między działaniami spiskowymi z 1830 i 1863 r.?
-



4. Przeczytaj fragment pieśni patriotycznej z okresu zaborów, a następnie uzupełnij tekst.

*Nie rzucim ziemi, skąd nasz ród,
nie damy pogrześć mowy,
polski my naród, polski lud,
królewski szczep Piastowy.
Nie damy, by nas zniemczył wróg.
Tak nam dopomóż Bóg!
Tak nam dopomóż Bóg!*


Pieśń ta nosi tytuł (1) „.....”. Jej słowa napisała w 1908 roku wybitna polska pisarka i poetka Maria Konopnicka, będąc pod wielkim wrażeniem oporu Polaków przeciw germanizacji ziem polskich. Wielka kariera tej pieśni zaczęła się, gdy Feliks Nowowiejski napisał do tych słów muzykę. Po raz pierwszy publicznie wykonano ją w Krakowie w (2) roku podczas kulminacji obchodów 500 rocznicy bitwy pod Grunwaldem.

Zadania – pytanie do ilustracji

5. Która ilustracja pokazuje wydarzenie z II poł. XIX w., dziejące się w jednym z miast polskich należących do zaboru austriackiego?



6. Na podstawie rysunku satyrycznego z 1937 r. wykonaj polecenia.



a) Podaj nazwisko postaci przedstawionej na rysunku.

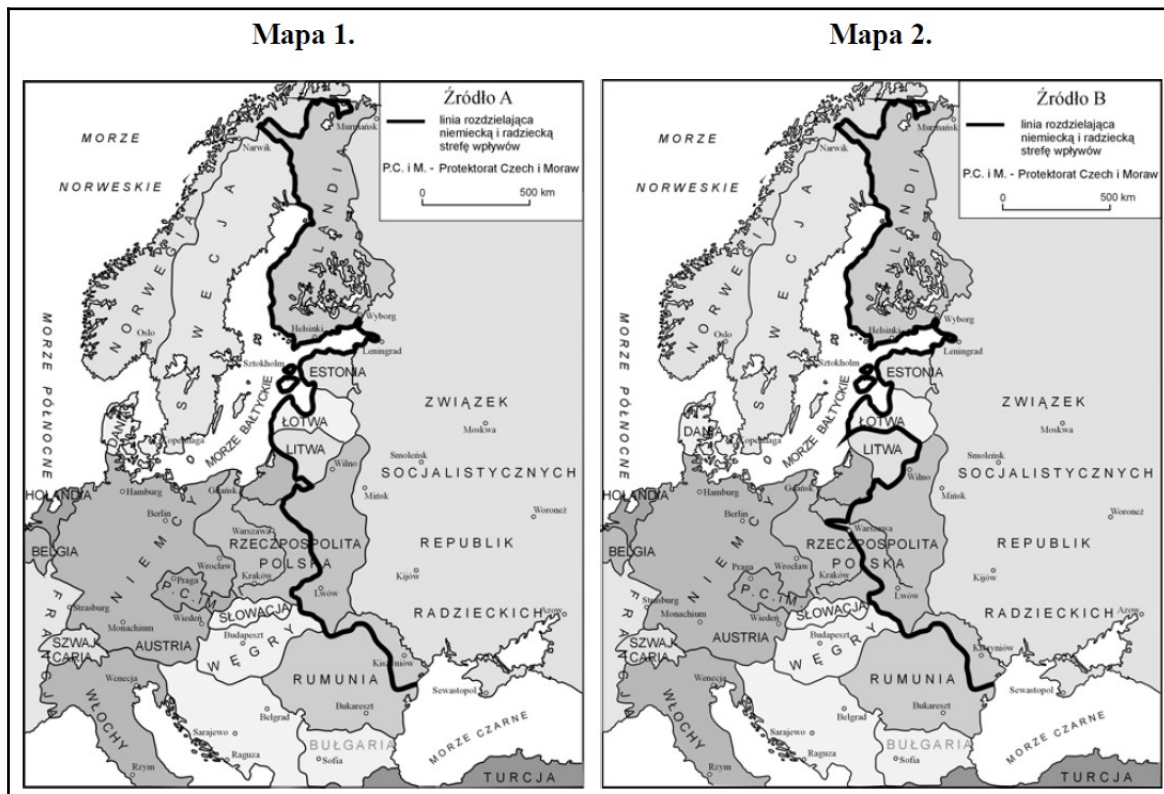
.....

b) Rozszyfruj skrót COP.

.....

Zadania – pytanie do mapy

7. Dokonaj analizy poniższych map, a następnie wykonaj polecenie.



a) Mapy przedstawiają zmieniający się podział stref wpływów z roku: