

PRZYKŁADOWE PYTANIA TESTU Z GEOGRAFII POLSKI

W każdym z poniższych zadań zaznacz prawidłową odpowiedź (A–D).

1. Polska graniczy z
 - A. pięcioma państwami.
 - B. sześcioma państwami.
 - C. siedmioma państwami.
 - D. ośmioma państwami.

2. Najdalej na południe wysuniętym punktem w Polsce jest szczyt
 - A. Turbacz.
 - B. Śnieżka.
 - C. Opołonek.
 - D. Tarnica.

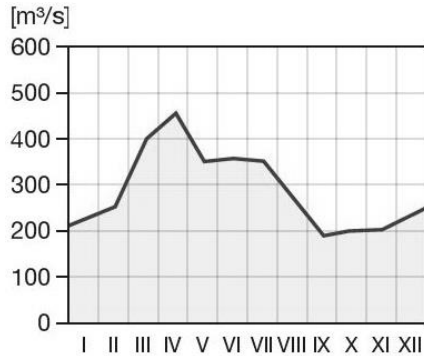
3. Wyniesienie Mazursko-Suwalskie to jednostka tektoniczna, na której obszarze występują złoża
 - A. soli kamiennej.
 - B. rud żelaza.
 - C. węgla kamiennego.
 - D. rud miedzi.

4. Znajdująca się poniżej mapa przedstawia zasięg



- A. pasa Nizin Środkowopolskich,
- B. pasa pojezierzy.
- C. pasa Kotlin Podkarpackich.
- D. pasa Wyżyn Polskich.

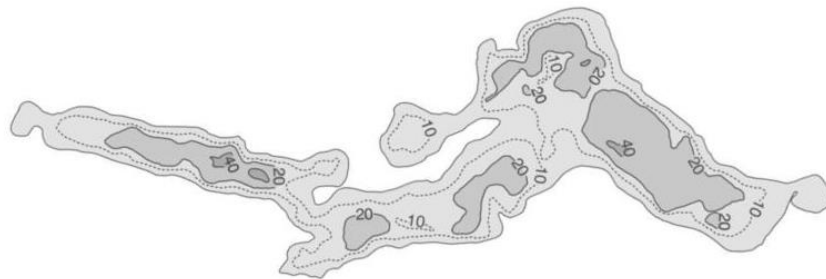
5. Na poniższym wykresie przedstawiono średnie miesięczne wartości przepływu typowe dla jednej z polskich rzek. Rzeka ta ma ustrój.



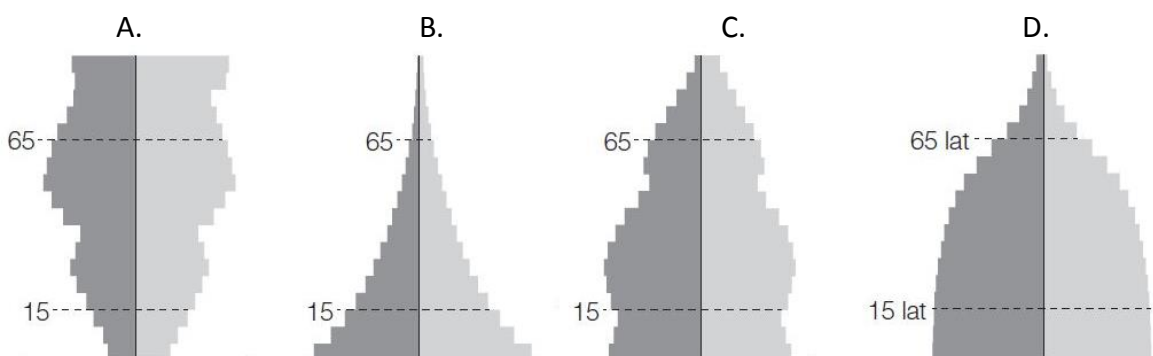
- A. deszczowy.
- B. deszczowo-śnieżny.
- C. śnieżny.
- D. śnieżno-deszczowy.

6. Poniższy plan batymetryczny jest typowy dla jeziora, które powstało wskutek

- A. odcięcia zatoki morskiej od pełnego morza przez mierzeję.
- B. wypełnienia wodą cyrku polodowcowego.
- C. erozyjnej działalności wód płynących pod lądolodem.
- D. odcięcia fragmentu dawnego koryta rzecznego od głównego nurtu rzeki.



7. Która z poniższych piramid wieku i płci swoim kształtem najbardziej przypomina piramidę wieku i płci dla Polski.



8. Wśród poniższych zdań dotyczących ludności Polski wskaż to, które jest prawdziwe.

- A. W Polsce żyje więcej mężczyzn niż kobiet.
- B. Najmniejszy przyrost naturalny występuje we wschodniej i środkowej części Polski.
- C. Od wielu lat w polskim społeczeństwie rośnie odsetek dzieci.
- D. Poziom dzietności w polskich miastach jest wyższy niż na terenach wiejskich.